

## MAŁA LIGA MATEMATYCZNA

### ZESTAW 15

- 1) Ile żab złapały trzy pelikany? Skorzystaj z informacji przedstawionych na rysunku. ( 1 pkt)

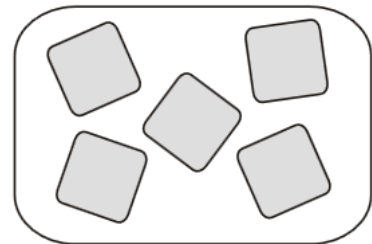
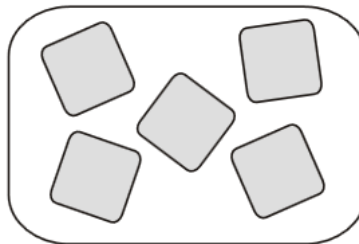
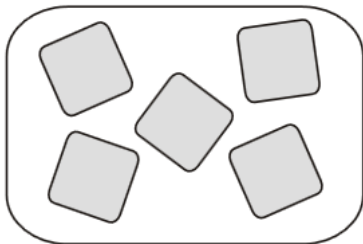


- A. 2      B. 3      C. 4      D. 9      E. 12

- 2) Ile jest liczb większych od 10 i jednocześnie mniejszych niż 32, które zapisane są tylko przy użyciu cyfr 1, 2, 3? Cyfry w tych liczbach mogą się powtarzać. ( 2 pkt)

- A. 2      B. 4      C. 6      D. 7      E. 8

- 3) Rzucasz pięcioma kostkami do gry. Pomyśl i narysuj, jakie wartości muszą być na górnych ściankach kostek, aby uzyskać podane wartości. ( 3 pkt)



Maksymalna wartość  
( jak największa suma)  
Zapisz otrzymany wynik za  
pomocą mnożenia:


Minimalna wartość  
( jak najmniejsza suma)  
Zapisz otrzymany wynik za  
pomocą mnożenia:


Suma wartości oczek mniejsza  
od 30, ale większa od 15  
Zapisz otrzymany wynik za  
pomocą dodawania:


Zapisz obliczenia lub przedstaw swoje rozumowanie rysunkiem.